

DOĞAL SAYILARI KAVRAMA TESTİ

Soru 1

Kaç tane rakam vardır?

- A) 9 B) 10 C) 11

Soru 2

"Beş yüz seksen" şeklinde okunan sayı aşağıdakilerden hangisidir?

- A) 508 B) 518 C) 580

Soru 3

402 doğal sayısının okunuşu aşağıdakilerden hangisidir?

- A) Dört yüz on iki
B) Dört yüz iki
C) Dört bin iki

Soru 4

İki basamaklı doğal sayıların en büyüğü kaçtır?

- A) 99 B) 90 C) 89

Soru 5

Bir basamaklı en büyük çift sayı kaçtır?

- A) 8 B) 9 C) 10

Soru 6

Aşağıdaki sayılardan hangisi 8 yüzlük, 0 onluk ve 2 birlikten oluşmuştur?

- A) 820 B) 802 C) 208

Soru 7

Aşağıdaki ifadelerden hangisi doğrudur?

- A) Bir basamaklı sayılar, iki basamaklı sayılardan büyüktür.
B) Üç basamaklı sayılar, iki basamaklı sayılardan küçüktür.
C) İki basamaklı sayılar, üç basamaklı sayılardan küçüktür.

Soru 8

Aşağıdaki sayılardan hangisinin çözülmesi yanlış verilmiştir?

- A) $606 = 6 \text{ yüzlük} + 6 \text{ onluk}$ B) $200 = 2 \text{ yüzlük}$ C) $508 = 5 \text{ yüzlük} + 8 \text{ birlik}$

DOĞAL SAYILARI KAVRAMA TESTİ

Soru 9

12, 29, 36, 48, 51, 60, 73 doğal sayılarından kaç tanesi çift doğal sayıdır?

- A) 4 B) 5 C) 6

Soru 10

496 doğal sayısında basamak değeri en büyük olan rakam hangisidir?

- A) 9 B) 6 C) 4

Soru 11

537 sayısında basamak ve sayı değerleri aynı olan rakam aşağıdakilerden hangisidir?




- A) 7 B) 5 C) 3

Soru 12

Aşağıdaki doğal sayılardan hangisi üç basamaklıdır?

- A) 074
B) 300
C) 030

Soru 13

Yüzlük	Onluk	Birlik
		

Yandaki tabloda belirtilen sayının okunuşu aşağıdakilerden hangisidir?

- A) Beş yüz kırk üç
B) Beş yüz dört
C) Beş yüz otuz dört

Soru 14

"576 doğal sayısı büyüktür doğal sayısından." cümlesindeki noktalı yere aşağıdaki sayılardan hangisi getirildiğinde ifade doğru olur?

- A) 800 B) 718 C) 498

Soru 15

Aşağıdaki sayılardan hangisinin yüzler basamağındaki rakam 5'tir?

- A) 705 B) 503 C) 455